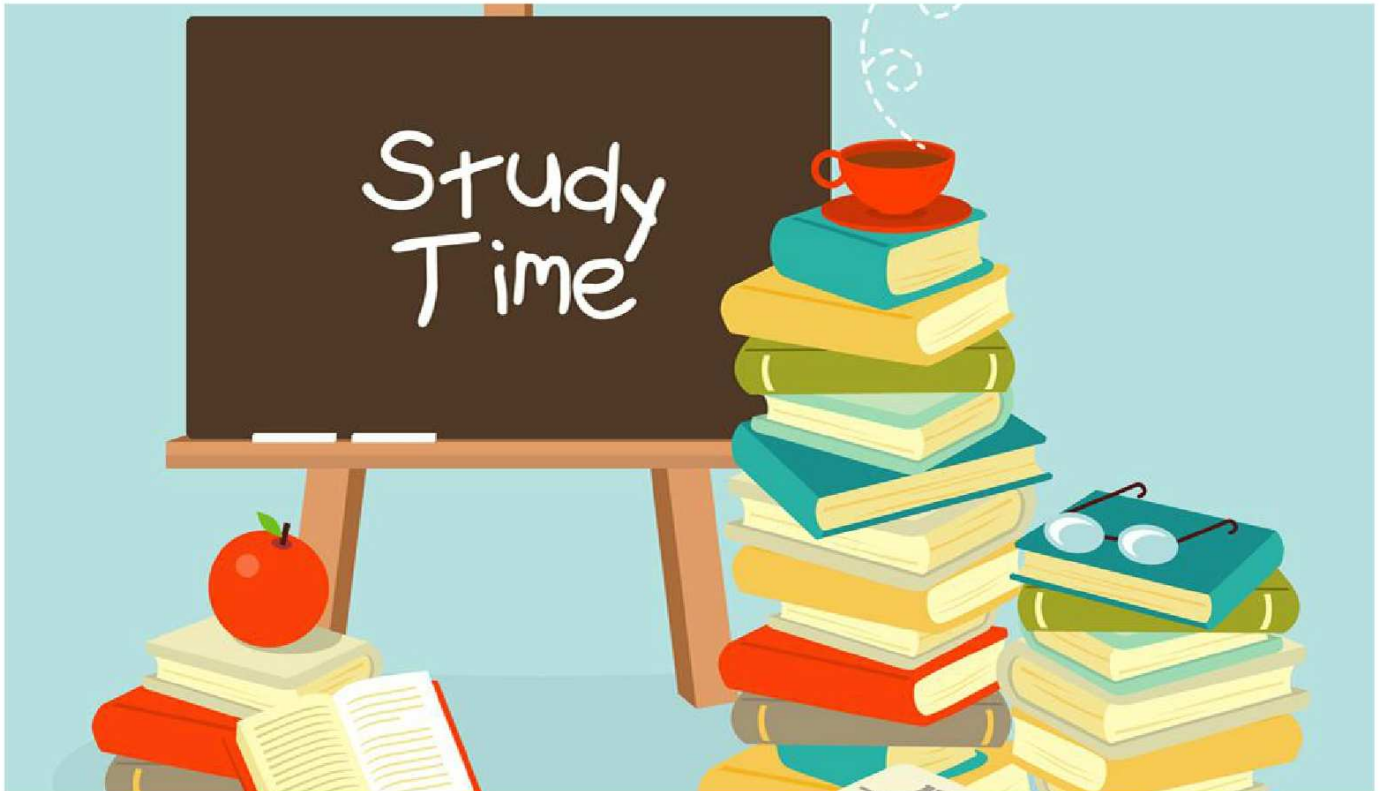


WAKACJE, WAKACJE... I PO WAKACJACH :(



Niestety, wszystko co dobre, szybko się kończy. Dwa miesiące wakacji minęły nie wiadomo kiedy. Za nami już prawie miesiąc nauki, więc najwyższy czas na pierwszy w tym roku szkolnym numer MATMY DO KWADRATU. Co prawda zmienił się skład redakcji - obecnie jest ona redagowana przez uczniów klasy IVD, ale tytuł został ten sam. Mamy również nadzieję, że nasi stali Czytelnicy nie zmienili swoich nawyków i dalej będą sięgać po naszą gazetkę.

:)

Dla szóstoklasistów ważną datą będzie 3 kwiecień 2012 - na ten dzień Centralna Komisja Egzaminacyjna zaplanowała przeprowadzenie w całej Polsce sprawdzianu zewnętrznego na zakończenie szkoły podstawowej.

Rok szkolny 2011/2012 będzie nieco dłuższy - jego zakończenie dopiero 29 czerwca. Zmieniły się przepisy i od tego roku zakończenie nauki szkolnej będzie miało miejsce w każdy ostatni piątek czerwca!
A jak wygląda kalendarz tego roku szkolnego?

Zimowa przerwa świąteczna - 23 grudzień 2011 - 1 styczeń 2012
Ferie zimowe - 23 styczeń - 5 luty 2012
Wiosenna przerwa świąteczna - 5 - 10 kwiecień 2012
Koniec roku szkolnego - 29 czerwiec 2012
Dodatkowymi dniami wolnymi oprócz dni świątecznych będą: 31 październik, 2 maj, 4 maj, 1 czerwiec i 8 czerwiec.

:)

Osoby, które z przyczyn losowych nie mogłyby podejść do tego sprawdzianu, będą miały termin dodatkowy - 5 czerwca 2012.

A zatem nie pozostaje nic innego, tylko życzyć Wam powodzenia w nowym roku szkolnym :)

ŚMIECH TO ZDROWIE :)

Jasio przynosi do domu torbę pełną jabłek. Mama pyta go:

- Skąd masz te jabłka?

Na to Jasiu:

- Od sąsiada.

- A on wie o tym? - pyta mama.

- No pewnie, przecież mnie goni!



Przyjaciółka do przyjaciółki:


- Czy ty zamierzasz wyjść za mąż?

- Chyba będę musiała... Tyle razy mnie o to proszono.

- Tak? A kto?

- Moi rodzice!

*Uwaga, dyktuję trudne zadanie!
Osoby o słabych nerwach
proszę zamknąć oczy!*



- Mamusiu, daj mi pięć złotych dla biednego prosi mały chłopczyk.
- A gdzie jest ten biedny ?
- Sprzedaje na ulicy lody.

Jedzie policjant samochodem i widzi pijanego, który chodzi ulicą. Policjant zatrzymuje się i mówi do pijanego:

- Proszę do poloneza.

A pijany odpowiada:

- Ale ja nie umiem tańczyć!

POWIEDZONKA NAUCZYCIELI DO UCZNIÓW

- Jak wpadniesz na pomysł, to uważaj, żebyś się nie potknął.

- Teraz do was mówię, więc skierujcie na mnie swoje autoradary i co tam macie.

- Nad twoją pracą domową myślała chyba cała rodzina, bo jeden człowiek takich głupot by nie wymyślił.

- Dzień bez kartkówki, to dzień stracony.

- Jak mi na tej emeryturze będzie zbyt dobrze, to sobie o was przypomnę. Ale czy ja wtedy będę coś pamiętała?

- Łap klamkę z drugiej strony i bywaj zdrow.

- Uśmiechnij się! Jutro też cię zapytam.

- Wszyscy wychodzą, reszta zostaje.

NIETRUDNE ZADANKA

Gdybym był 3 razy starszy niż jestem teraz, a moja siostra byłaby 4 razy młodsza, niż jest teraz, to byłbym od niej 24 razy starszy. Ile razy jestem starszy obecnie od mojej siostry?

*

Czy liczba przeciwna do liczby przeciwnej do 2 jest liczbą przeciwną do liczby przeciwnej do -2?

Po podwórku chodzą koty i kury. Zwierzęta te mają łącznie 30 nóg. Kotów jest o 3 mniej niż kur. Ile kur, a ile kotów znajduje się na

Iloma zerami kończy się iloczyn wszystkich liczb naturalnych od 1 do 1000?

*

Znajdź liczbę naturalną różną od zera wiedząc, że jeśli podzielisz ją przez 3, to otrzymany iloraz będzie 5 razy większy niż reszta. Czy istnieje tylko jedna taka liczba?

*

Znajdź liczbę mniejszą od 20, ale większą od 10, która dzielona przez 2 daje resztę 1, dzielona przez 3 daje resztę 2, dzielona przez 7 daje resztę 3, a dzielona przez 6 daje resztę 5.



2		
	5	
6		8

LATAJĄCY DYWAN

Na latającym dywanie umieszczony jest kwadrat magiczny, w którym wpisane są liczby od 1 do 9. Aby dywan uniół się w powietrze, należy nacisnąć pole, na którym zapisana jest liczba 9. Niestety,

część liczb czarodziej uczynił niewidzialnymi. Czy potrafisz wskazać, które pole należy nacisnąć, aby poszybować na dywanie?

COŚ DLA MŁODSZYCH

:)

Ania zasnęła o godzinie 9:30 wieczorem i zbudziła się następnego ranka o godzinie 6:45. Czas snu jej braciszka był o 1 godzinę i 55 minut dłuższy od czasu snu Ani. Jak długo spał braciszek Ani?



Zosia rysuje zajaczki: niebieskiego, następnie zielonego, potem czerwonego, wreszcie żółtego i znowu kolejno niebieskiego, zielonego, czerwonego, żółtego itd. w tej samej kolejności. Jakiego koloru będzie dziewiętnasty zajaczek?


ŁAMIGŁÓWKOWY ZAWRÓT GŁOWY

MASYU

Jest to japońska łamigłówka. Kwadraty, tworzące poniższą planszę, zawierają białe i czarne koła. Twoim zadaniem jest narysowanie linii, która będzie przechodzić przez wszystkie te koła. Musisz jednak przestrzegać zasad:

Linia musi wchodzić i wychodzić z każdego kwadratu środkiem jednego z jego boków. zakręcać.

Jeżeli natrafi na czarne koło, skręca w lewo lub w prawo. Przez białe koło przechodzi prosto.



Linia przechodzi prosto również przez kwadrat

poprzedzający i następujący po kwadracie z czarnym kołem - nie może tam zakręcać. Musi natomiast skręcić w prawo lub w lewo w kwadracie poprzedzającym i (lub) następującym po kwadracie zawierającym białe koło. Linia może skręcać w prawo lub w lewo w każdym

innym pustym kwadracie.

Uwaga: Linia nie może przejść przez ten sam kwadrat dwukrotnie i nie może przecinać sama siebie.

:)

Tata pyta Jasia:
- Dlaczego dostałeś jedynekę z historii?

:)

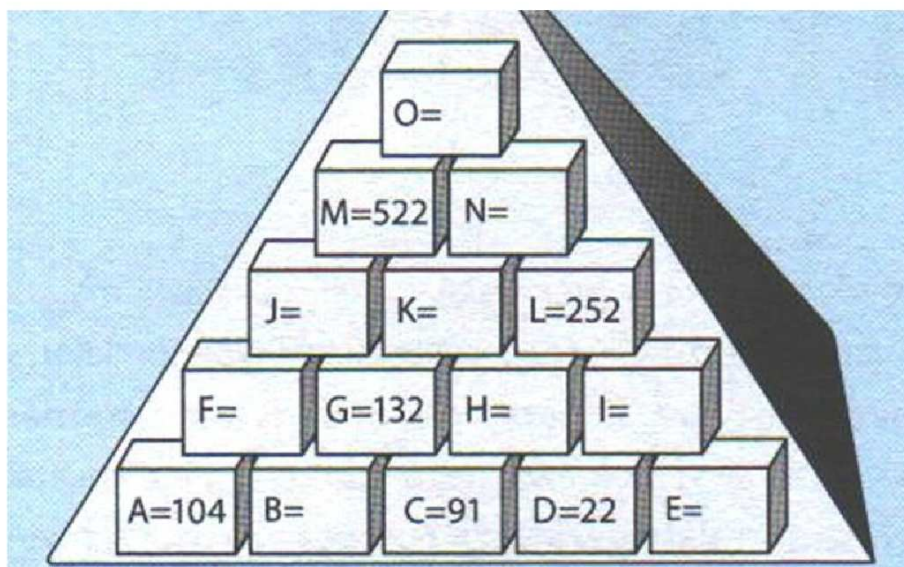
- Bo nauczyciel jest jakiś dziwny... Zawsze pyta mnie o sprawy, które miały miejsce jeszcze przed moim urodzeniem...



PIRAMIDA LICZBOWA

Poza dolnym rzędem każda cegielka piramidy zawiera liczbę, która jest sumą dwóch liczb znajdujących się w cegielkach bezpośrednio niżej położonych. Np. $F = A + B$. Uzupełnij tę piramidę.

*Wskazówka:
Zacznij od H, a bardzo szybko uzupełnisz liczby :)*




ROZKOSZE ŁAMANIA GŁOWY

LITEROWA KOSTKA DO GRY

Jeśli złożysz siatkę znajdującą się poniżej w sześcian, uzyskasz jedną z kostek oznaczonych literami A - E. Którą?

Suma trzech liczb jest równa 15. Suma pierwszej i drugiej liczby jest równa 9, a suma drugiej i trzeciej

jest równa 11. Jakie to liczby?



:)

Mały Jasio pyta mamy:

- Mamo, po co TY się malujesz?
- Żeby ładnie wyglądać.
- A kiedy to zacnie działać?

:)

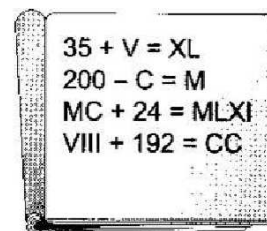
- Jakie nazwisko najbardziej pasuje do tysego?
- Pawłowski!

ZADANKO O KANGURZE

Kangur do rzeki odległej o 100m przybyć chciał. 3 razy skoczył. Każdy krok 2m miał. Ile jeszcze skoków musi wykonać, aby pozostałą część trasy pokonać?

ZNAKI RZYMSKIE


W zeszycie Janka Bałaganiarza widnieją zapisy przedstawione na rysunku obok. Które obliczenia są poprawne?



PORTRETY PUŁKOWNIKA

Który z czterech portretów pułkownika w ramce po prawej, oznaczonych literami A D, powinien znaleźć się na pustym miejscu ze znakiem zapytania?

Wskazówka: Pomyśl, jak zmienia się wygląd twarzy pułkownika.



UŚMIECHNIJ SIĘ :)))

Facet przyszedł do baru, gdzie zamówił zupę i bułkę. Po pewnym czasie kelner przyniósł zupę i bułkę, ale facet zauważył, że bułka jest wilgotna.

- Kelner! Dlaczego ta bułka jest taka mokra?
- Panie, jakbyś na jednej ręce niósł 4 talerze zupy, na drugiej ręce cztery talerze zupy i bułkę pod pachą, to też byś się pan spocił.

- Synku, znów zgubiłeś klucze od mieszkania!
 - Nie martw się mamó!
- Tym razem przyczepiłem do nich karteczkę z naszym adresem!!!


Mały mol miał udać się w swój pierwszy lot po pokoju. Wyleciał z szafy, obleciał dookoła pokój, po czym wrócił do szafy na płaszczyk.

- I jak było? - pyta ojciec

- Chyba nieźle. Wszyscy klaskali.

- Dlaczego słonie mają takie wielkie głowy?
- Żeby w ZOO nie mogły przecisnąć się przez ogrodzenie.
- A dlaczego mają takie płaskie uszy?
- Bo często próbowały to robić!!!

Wykształcenie nie piwo nie musi być pełne.
Przeszedłem sam siebie.
Chodnik.
Ludzie, jak ja was lubię.
Ludożerca.
Krecik czołowy działacz podziemia.



:)

Przychodzi Jasio do sklepu i pyta:

- Czy jest dzisiejszy chleb?
- Nie, jest tylko wczorajszy!
- A kiedy będzie dzisiejszy?
- Jutro!!!

:)

Na lekcji przyrody nauczycielka pyta Jasia:

- Jasiu, jakie znasz rodzaje komórek?
- Nokia, Motorola, Simens,... (i tak dalej...)

:)

TEKSTY Z MURÓW

Człowiek rodzi się mądry, a potem idzie do szkoły.

Gdzie dwóch się bije, tam korzysta ... dentysta.

Mniejsza ilość zębów zwiększa swobodę języka.

Chodzenie po bagnach wciąga.

Prawdziwy turysta z mydła nie korzysta.

Poszła babcia po mleko i dostała z bańki.

Pewien żołnierz chciał się zabawić.

Wszedł na minę i nieźle się rozerwał.

Gdy do ludzia tuli się ludź, to ludź do ludzia musi coś czuć.

